

Nombre: _____ Nº: ____ Fecha: _____

1. Escribe una V para verdadero o una F para falso:

	Los musgos no tienen raíz, ni tallo, ni hojas.
	Los helechos son plantas pteridofitas.
	Los musgos son espermatofitas.
	Las espermatofitas tienen flores y producen semillas.
	Un manzano es una briofita.
	Los musgos y los helechos suelen vivir en zonas húmedas y sombrías.
	Las espermatofitas tienen raíz tallo y hojas.
	Los musgos y los helechos se reproducen por esporas.
	Las angiospermas son plantas con anginas.
	Las gimnospermas no tienen frutos.

2. Clasifica estos animales invertebrados según el grupo al que pertenezcan: sanguijuela, medusa, abeja, estrella de mar, coral, lombriz, pulpo, cangrejo, erizo de mar, caracol.

Celentéreos	Anélidos	Equinodermos	Moluscos	Artrópodos

3. Escribe un ejemplo de animal invertebrado que tenga estas características.

Características	Ejemplos
Artrópodo con 8 patas.	
Artrópodo con seis patas.	
Molusco bivalvo.	
Molusco cefalópodo.	
Molusco gasterópodo.	

Nombre: _____ N°: _____ Fecha: _____

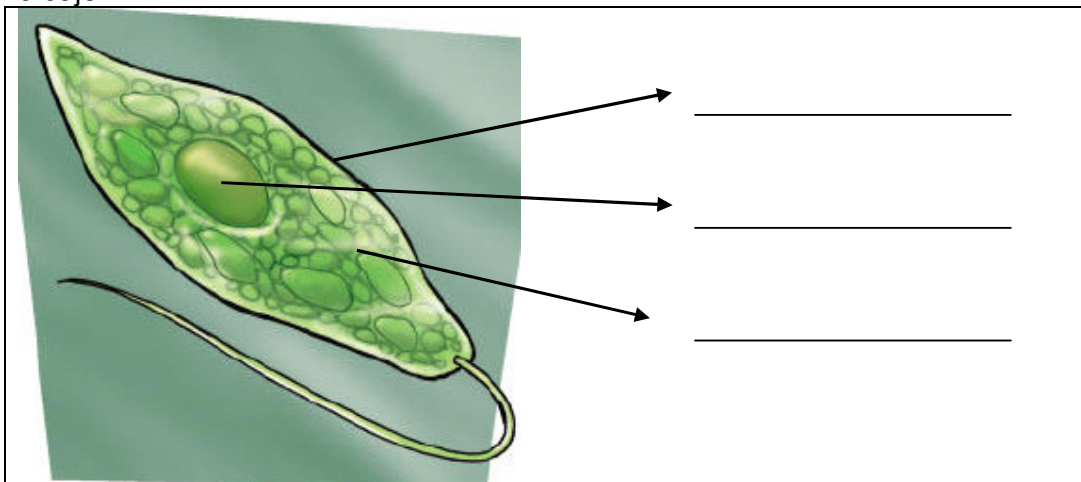
4. Escribe un ejemplo de animal vertebrado que tenga estas características.

Características	Ejemplos
Vertebrado vivíparo	
Vertebrado con plumas.	
Vertebrado que respire por branquias.	
Vertebrado con la piel recubierta de escamas	
Vertebrado que tenga metamorfosis.	

5. Clasifica estos seres vivos según al reino al que pertenezcan: Bacteria, alga, levadura, rosal, perro, serpiente, musgo, moho.

Moneras	Protistas	Hongos	Plantas	Animales

6. Escribe el nombre de cada una de las partes de la célula señaladas en el dibujo:

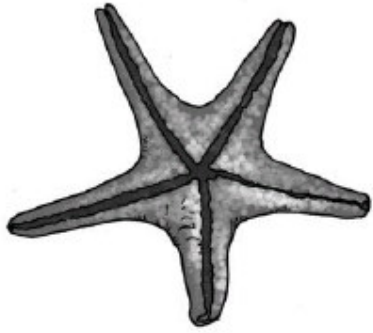



7. ¿De qué reino hablamos en cada casilla?

	Son seres unicelulares que no tienen núcleo.
	Son seres pluricelulares heterótrofos que se alimentan comiendo a otros seres vivos.
	Son seres unicelulares con núcleo.
	Son seres heterótrofos que se alimentan de otros seres vivos en descomposición.
	Son seres pluricelulares autótrofos.

Nombre: _____ Nº: _____ Fecha: _____

8. Completa una ficha para cada ser vivo:

	<ul style="list-style-type: none">• Nombre: _____• Reino: _____• ¿Vertebrado o invertebrado? _____• Grupo: _____• ¿Autótrofo o heterótrofo? _____
	<ul style="list-style-type: none">• Nombre: _____• Reino: _____• ¿Vertebrado o invertebrado? _____• Grupo: _____• ¿Autótrofo o heterótrofo? _____

9. Escribe las tres funciones vitales que realiza cualquier ser vivo:

--	--	--

10. Explica la diferencia entre seres autótrofos y seres heterótrofos:

--